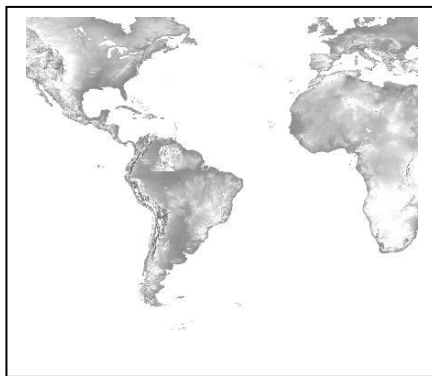
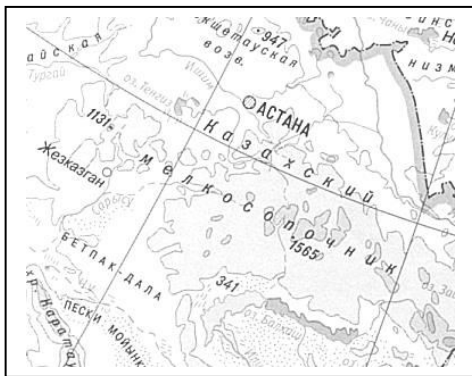


Курс – география 7 класс Практическая работа №1	Цель: «Характеристика карт атласа по плану»
Выполнила	

1. Заполните схему «Классификация карт»: (11б)

1		2		3	
а		а		а	
б		б		б	
в				в	

2. Дайте классификацию предложенных фрагментов карт: (9б)



1. _____
2. _____
3. _____
_____

1. _____
2. _____
3. _____
_____

1. _____
2. _____
3. _____
_____

Набранное кол-во баллов	Оценка
20-17	5
16-12	4
11-8	3

Курс – география 7 класс Практическая работа №2	Цель: «Представить комплексную характеристику отдельных территорий материка Африки»
Выполнила	

1. Используя комплексную карту Африки, заполните таблицу: **Ливия** (7б)

(7б)

Страна	Столица	Коренное население	Форма рельефа и полезные ископаемые	Климатический пояс	Хозяйственная деятельность человека.

2. На основе плана, дайте комплексную характеристику страны: **ЮАР** (8б)

1. Название столицы, координаты. \_\_\_\_\_

2. с какими странами граничит; \_\_\_\_\_

3. перечислить основные формы рельефа на территории страны; \_\_\_\_\_

4. полезные ископаемые. \_\_\_\_\_

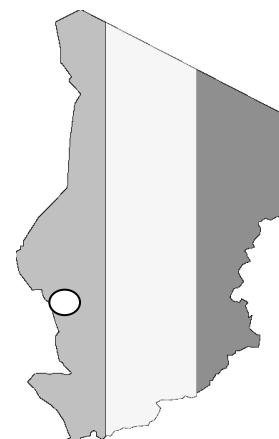
5. в каком климатическом поясе расположена страна; \_\_\_\_\_

6. крупнейшие реки \_\_\_\_\_

7. в каких природных зонах располагается страна; \_\_\_\_\_

2. По фрагменту карты определите страну: (6б)

1. название страны: _____
2. столица: _____
3. координаты столицы: _____
4. число жителей в столице _____
5. климатический пояс гос-ва _____
6. природная зона гос-ва _____



Правильных ответов	Оценка
21-18	5
17-13	4
12-8	3

<p>Курс – география 7 класс Практическая работа №3</p>	<p>Цель: «Составление краткой сравнительной характеристики природы Южной Америки и Африки»/ географическое положение, природные условия, ресурсы, особенные компоненты природы этих материков, формулирование сходств и различий</p>
<p>Выполнила</p>	

1. Заполните таблицу: (20б)

план сравнения	название сравниваемых материков	
	Южная Америка	Африка
<p>1. Географическое положение: а) относительно экватора/полушария б) относительно нулевого меридиана/полушария в) относительно океанов г) относительно соседних материков</p>	<p>а) б) в) г)</p>	<p>а) б) в) г)</p>
<p>2. определить климатические пояса, самую низкую/высокую температуру.</p>	<p>Ят°=                      Ит°=</p>	<p>Ят°=                      Ит°=</p>
<p>2. выделяющиеся ПИ (карта строения Земли)</p>		
<p>3. назовите животных, встречающихся только на этих материках:</p>		
<p>3. Хозяйственное использование рек.</p>		

2. История открытия: (6б)

- Исследователь Африки, собравший с экспедицией 6 тыс. образцов культурных растений. \_\_\_\_\_
- Исследователь Африки, отправившийся на поиски Ливингстона \_\_\_\_\_
- Пересек пустыню Калахари, Реку Замбези, открыл водопад Виктория. \_\_\_\_\_
- Исследовал северную часть Анд, реку Ориноко. \_\_\_\_\_
- Первая экспедиция. Открытие Америки. \_\_\_\_\_
- Открытие побережья Бразилии, устья Амазонки. \_\_\_\_\_

3. Что означают цифры: (5б)

- 17,8 млн. кв. км \_\_\_\_\_
- 6960 м/ \_\_\_\_\_
- 6671 км/ \_\_\_\_\_
- + 58°/ \_\_\_\_\_
- 1497-1499 г./ \_\_\_\_\_

Правильных ответов	Оценка
31-27	5
26-21	4
20-14	3

Курс – география 7 класс Практическая работа №3	Цель: 1. Определение географических координат крайних точек Африки. 2. Подготовка рефератов и сообщений о климате материка.
Выполнил/а	

**1. Вставьте нужное слово по смыслу: Африка-это континент, где .....**

Самая высокая температура \_\_\_\_\_, зафиксирована в городе \_\_\_\_\_;  
 Самая большая пустыня \_\_\_\_\_;  
 Самая длинная река \_\_\_\_\_;  
 Самая полноводная река восточного полушария \_\_\_\_\_;  
 Самые крупные млекопитающие суши \_\_\_\_\_,  
 \_\_\_\_\_,  
 \_\_\_\_\_;  
 Самые крупные человекообразные обезьяны \_\_\_\_\_,  
 \_\_\_\_\_;  
 Самые низкорослые \_\_\_\_\_ и высокорослых народов на Земле \_\_\_\_\_,  
 \_\_\_\_\_;  
 Самый крупный тектонический разлом земной коры \_\_\_\_\_.

**2. При определении ФГП Африки закончи предложение:**

Африка почти посередине пересекается \_\_\_\_\_  
 Ее крайние (северная и южная) точки удалены от экватора почти \_\_\_\_\_  
 Территорию материка пересекают тропики: \_\_\_\_\_ и \_\_\_\_\_  
 На западе Африки проходит \_\_\_\_\_ меридиан  
 Африка – единственный континент, который одновременно лежит и в \_\_\_\_\_ и \_\_\_\_\_ широте, в \_\_\_\_\_ и \_\_\_\_\_ долготе.

**3. Определите географические координаты крайних точек:**

С – м. Бен-Сека \_\_\_\_\_ с. ш.; \_\_\_\_\_ в. д.;  
 Ю – м. Игольный \_\_\_\_\_ ю. ш.; \_\_\_\_\_ в. д.;  
 В – м. Рас – Хафун \_\_\_\_\_ с. ш.; \_\_\_\_\_ в. д.;  
 З – м. Альмади \_\_\_\_\_ с. ш.; \_\_\_\_\_ в. д.

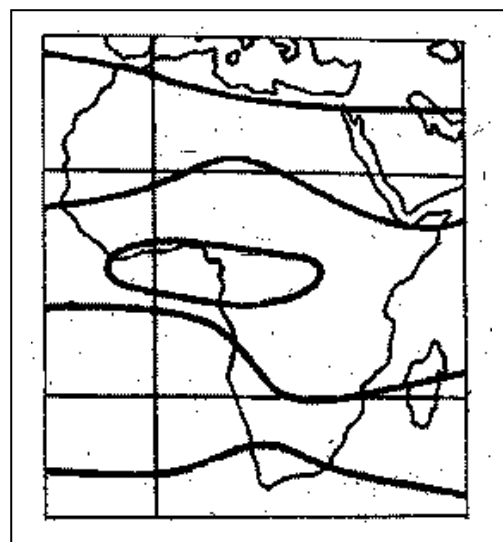
**4. Определите, какому климатическому поясу соответствуют данные признаки:**

1. Занимает полосу между 20° с. ш. и 20° ю. ш.
2. Расположен в районе тропиков.
3. Занимает бассейн реки Конго и побережье Гвинейского залива.
4. Лежит на самом севере и на самом юге материка.
5. Тепло, дождливо в течение всего года.
6. Погода круглый год жаркая и сухая.
7. Лето жаркое и сухое, зима теплая и влажная.
8. Два сезона – влажный и сухой.
9. После полудня почти всегда идет сильный ливень.
10. Весь год господствуют пассаты.
11. Здесь дуют ветры “самум”.
12. Осадков выпадает очень мало, летом и зимой менее 100 мм.
13. Осадки в основном выпадают летом.
14. Климат средиземноморский.

А) экваториальный	
Б) субэкваториальный	
В) тропический	
Г) субтропический	

**5. Подпишите климатические пояса материка**

«5»	«4»	«3»	«2»	«1»
37-32	31-26	25-18	17-10	ниже 9



Курс – география 7 класс Практическая работа №4	Цель: 1. «Описание одной из рек материка Северной Америки» по плану
Выполнила	

**1. О какой реке идет речь? \_\_\_\_\_ (16)**

Река начинается в плоском невысоком озёрном крае к западу от озера Верхнего, почти у северной границы США, течёт на юг. В верхнем течении она несудоходна и используется только для сплава леса. Дальше на юг она становится широкой, многоводной и судоходной. Река принимает много притоков, 54 из них судоходны. Крупнейшие притоки Миссури и Огайо.

**2. Ответьте на вопросы (10б)**

Какая река:

1. Образует громадный каньон?
2. Собирает воду Великих озёр и впадает в Атлантический океан?
3. На языке индейцев называется «Илистая река»?
4. Наибольшая река в Северной Америке?
5. Образует большую дельту?
6. Соединяет озёра Эри и Онтарио?
7. Впадает в Калифорнийский залив?
8. Впадает в Мексиканский залив?
9. По длине превосходит ту, в которую впадает?
10. Имеет дельту, которая ежегодно выдвигается в залив на 100м?

- А. Миссисипи. \_\_\_\_\_  
 Б. Миссури. \_\_\_\_\_  
 В. Св. Лаврентия. \_\_\_\_\_  
 Г. Ниагара. \_\_\_\_\_  
 Д. Колорадо. \_\_\_\_\_

**3. Составьте рассказ по плану (подчеркнуть): 1-ряд: Колорадо, 2-ряд: Макензи, 3-ряд: Рио-Гранде.**

1. Исток. \_\_\_\_\_
2. Устье. \_\_\_\_\_
3. Направление течения. \_\_\_\_\_
4. Притоки. правый: \_\_\_\_\_; левый \_\_\_\_\_.
5. Питание. \_\_\_\_\_
6. Режим, особенность. \_\_\_\_\_
7. Хозяйственное использование \_\_\_\_\_ (7б)

Рассказ: \_\_\_\_\_  
 \_\_\_\_\_  
 \_\_\_\_\_  
 \_\_\_\_\_  
 \_\_\_\_\_  
 \_\_\_\_\_  
 \_\_\_\_\_  
 \_\_\_\_\_ (3б)

**4. Реки Северной Америки, впадающие в (3б)**

Тихий океан	Северный Ледовитый океан	Атлантический океан

«5»	«4»	«3»	«2»	«1»
24-21	20-16	15-10	9-4	ниже 3

Курс – география 7 класс Практическая работа №5	Цель: Определение типов климата двух частей материка Евразии, их сравнение»/
Выполнила	

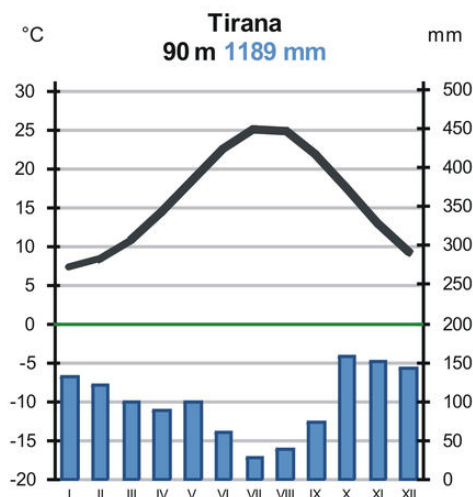
### 1. Сравните количество осадков на западе и в центре Евразии? (7б)

Климатический показатель	Умеренный пояс	
	Область морского климата	Область умеренно-континентального климата
Преобладающие воздушные массы		
Средняя температура, °С января июля		
Годовая сумма осадков, мм Режим выпадения		
Факторы, влияющие на климат		
Причины различия климата западной и центральной частей материка, расположенных в умеренном поясе		

### 2. Ответьте на вопросы:

По климатической диаграмме города Тирана, охарактеризуйте особенности климата. (5б)

Температура января, °С	Температура июля, °С	Годовое количество осадков, мм	Режим выпадения осадков	Тип климата, климатический пояс.



«5»	«4»	«3»	«2»	«1»
12-10	9-8	7-5	4-3	ниже 3

Курс – география 7 класс Практическая работа №5	Цель: 1. Подготовка рефератов и сообщений по теме. «Земля – наш общий дом»
Выполнила	

### 1. Раскрыть содержание понятий:

Вади – \_\_\_\_\_

Крик – \_\_\_\_\_

Самум – \_\_\_\_\_

Скрэб – \_\_\_\_\_

Сельва – \_\_\_\_\_

Патагония – \_\_\_\_\_

### 2. Назовите природную зону по описанию.

1. Осадки здесь бывают не каждый год. Путешествовать летом опасно. При такой жаре человек теряет 1 литр воды в час. Это быстро ведет к обезвоживанию организма. \_\_\_\_\_.

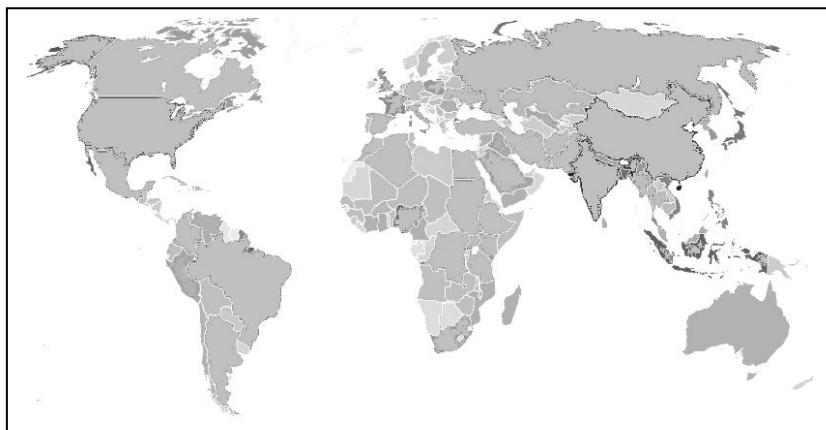
2. В этих лесах то тут, то там растут деревья-гиганты. Их кроны поднимаются выше всех других деревьев леса. На стволе и на сучьях этих великанов ютятся сотни растений-паразитов. Между высокими деревьями растут более низкие. Еще ниже жмутся кустарники, все, переплетая, перекидываясь с дерева на дерево, вьются лианы, то тонкие, как бечевка, то толстые, как нога бегемота. Подчас они образуют целые сети непроходимых чащ. Палящие лучи солнца не проникают в глубину такого леса. \_\_\_\_\_.

3. В сухой период она окрашена в желто-бурые тона. Зато в дождливый период она выглядит очень яркой, зеленой и нарядной. Там находят себе пищу травоядные животные: антилопы, зебры, жирафы, слоны. \_\_\_\_\_.

4. Это волнующее море трав, где порой на далеком расстоянии не встречается ни одного деревца, ни одного кустика, по которому бродят стада быков, табуны лошадей, важно шагают страусы нанду. \_\_\_\_\_.

### 3. На контурной карте отметь объекты, обозначены цифрами.

1. Покажите самый сухой материк.
2. Самый влажный материк.
3. Самый жаркий материк.
4. Самый холодный материк.
5. Самые высокие горы.
6. Самая высокая вершина Анд.
7. Самые полноводные реки.
8. Самая длинная река.
9. Самая большая пустыня на Земле.



### 4. Ответьте на вопросы:

1. Средняя высота над уровнем моря материка-750 м. Высочайшая горная вершина (5895 м) является вулканом, увенчанным вечной снеговой шапкой. Как называется горная вершина? - ИЛИ - - - - ЖАР -

2. Какой остров у южных берегов Австралии носит название крупного австралийского животного?  
- - - - У - У

3. На карте эта страна самая «длинная» и самая «узкая» в мире: в длину – 4300 км, а в ширину – от 15 до 355 км. На языке инков название страны обозначает «снег». Это очень точная характеристика, так как вершины ее гор покрыты снегом. Назовите страну и ее столицу. - И - И, - - - ТЬ - - -

4. Площадь бассейна этой реки самая большая в мире, она составляет 7180 тыс. км<sup>2</sup> и равна по площади две трети Европы. Эта же река самая многоводная на планете. Как называется эта река? А – А - - - - А

«5»	«4»	«3»	«2»	«1»
23-20	19-15	14-8	7-3	ниже 3

Курс – география 7 класс Практическая работа №6	Цель: 1. Краткое, комплексное описание одной из стран Евразии»
Выполнила	

### 1. привести пример стран: (76)

Географическое положение:

1. Площадь: большая \_\_\_\_\_, маленькая \_\_\_\_\_
2. Полуостровные \_\_\_\_\_
3. Островные \_\_\_\_\_
4. Страны-архипелаги \_\_\_\_\_
5. Внутриконтинентальные \_\_\_\_\_
6. Приморские \_\_\_\_\_

### 2. Охарактеризуйте страну по плану: Монголия (166)

1. Столица страны, координаты столицы. \_\_\_\_\_
2. Географическое положение :
  - в какой части какого материка находится страна; \_\_\_\_\_
  - с какими странами и где граничит; \_\_\_\_\_
  - \_\_\_\_\_
  - какими морями каких океанов и где омывается. \_\_\_\_\_
  - \_\_\_\_\_
3. Рельеф и полезные ископаемые:
  - характер поверхности; \_\_\_\_\_
  - полезные ископаемые. \_\_\_\_\_
4. Климат и внутренние воды:
  - климатический пояс; \_\_\_\_\_
  - средняя температура января и июля; Я \_\_\_\_\_, И \_\_\_\_\_
  - крупнейшие реки и озёра. \_\_\_\_\_
5. Особенности природы страны:
  - природные зоны; \_\_\_\_\_
  - типичные растения и животные. \_\_\_\_\_
  - \_\_\_\_\_
6. Население страны:
  - Численность населения столицы. \_\_\_\_\_
  - Крупные города: \_\_\_\_\_

### 3. Нанесите на карту страны: (146)

- 1-Финляндия, 2-Швеция, 3-Великобритания,  
4-Польша, 5-Испания, 6-Казахстан,  
7-Саудовская Аравия, 8-Индия, 9-Вьетнам,  
10-Китай.

«5»	«4»	«3»	«2»	«1»
37-32	31-25	24-16	15-6	ниже 5

